



18^{de} LENTEWANDELZOEKTOCHT GENT

van 2 maart tot 23 juni 2024

'Op zoek... in Sas van Gent'



AANWYSINGE DER TEYKENEN	
1	Bolwerk Holland
2	Bolwerk Leeland
3	Bolwerk Generalit, ondermijnt
4	Bolwerk Orange
5	Bolwerk Kalken
6	Bolwerk de hoorn
7	Bolwerk Vrij
8	Ravelin Maars
9	Ravelin Wilk of Bittenburg
10	Ravelin Hoop
11	Ravelin Terend
12	Ravelin
13	Kruis de Schepswaeg
14	Kruis voor den Steen
15	De Bock
16	Claveren ans
17	Stanna Fort
18	Travers voor de Kluyt
19	Kastel of Rapoerburg
20	Watermolen op de Maal
21	Watermolen op de Maal
22	Graven van de Bogen, Torenken
23	Grage gegraven 1796
24	Terwille Trage
25	Arden Dam in Route Kluyt
26	Arden Kluyt of vervalten
27	Arden Kluyt van de Maal 1796
28	Arden Kluyt van de Maal

vervolg van de Aanwysinge	
29	Arden Kluyt of vervalten
30	Arden Kluyt van de Maal
31	Den Steen
32	Duytensche Schuttinge
33	De Komme
34	Duytensche Schuttinge
35	Route Kluyt in de Oostmaarslag
36	Oppanmaals veld Arden Kluyt
37	Arden Kluyt of vervalten
38	Arden Kluyt van de Maal
39	Arden Kluyt van de Maal
40	Arden Kluyt van de Maal
41	Arden Kluyt van de Maal
42	Arden Kluyt van de Maal
43	Arden Kluyt van de Maal
44	Arden Kluyt van de Maal
45	Arden Kluyt van de Maal
46	Arden Kluyt van de Maal
47	Arden Kluyt van de Maal
48	Arden Kluyt van de Maal
49	Arden Kluyt van de Maal
50	Arden Kluyt van de Maal

Welkom op onze 18e wandelzoektocht!

Traditiegetrouw maken we een wandeling in Gent. Deze keer gaan we echter de grens over naar Sas van Gent, dat zich in vogelvlucht op ongeveer 20 km bevindt van de Drie Torens van Gent. Je vraagt je wellicht af waarom we zo ver van het centrum van de Arteveldestad zijn beland. De naam 'Gent' in 'Sas van Gent' laat waarschijnlijk al een belletje rinkelen.

Ten eerste lopen de noordelijke grenzen van Gent, met name het havengebied, langs het kanaal Gent-Terneuzen niet ver van de grens met Nederland, bijna tot aan Sas van Gent. Een tweede, en ook de belangrijkste reden waarom de zoektocht in deze Nederlandse stad plaatsvindt, heeft te maken met het ontstaan van deze stad. De oorsprong van Sas van Gent is nauw verbonden met de zoektocht van de stad Gent naar een verbinding met de zee.

In de 16de eeuw gaf Keizer Karel V toestemming aan zijn geboortestad om de Graaf Jansdijk door te graven met een sluis of "sas". Bij de bouw van de sluis en het graven van de Sassevaart ontstond een kleine nederzetting die uiteindelijk zou uitgroeien tot Sas van Gent. Daarvoor was er een moerasgebied genaamd de Braakman, dat was ontstaan uit een oude zeearm van de Westerschelde en werd beschermd door een dijk.





Tijdens een wandeling van ongeveer 3 km lossen we een 30-tal parcoursvragen op. Hier en daar zit een addertje onder het gras, maar maak je geen zorgen. Met het gebruik van onze hersenen, wat logica en goed rondkijken, kunnen alle vragen beantwoord worden. Lees elke vraag ook zowel vooraf als ter plaatse grondig door; dit zal helpen om tot goede resultaten te komen!

Veel succes!

De zoektocht verloopt conform de 'Spelregels & Afspraken voor zoektochten'.

Te lezen op: www.caborazoechtchten.com

SPECIFIEK REGLEMENT

1. Met plaatselijke gegevens, gegevens op je routeblad en wat parate kennis kunnen alle vragen opgelost worden.
2. De weg wordt aangegeven door genummerde opdrachten die in volgorde moeten worden uitgevoerd.
3. Door zijn deelname aanvaardt de deelnemer dit reglement. De organisatoren verklaren nadrukkelijk dat voor deze zoektocht geen extra verzekering werd afgesloten. De deelnemers aanvaarden dat ze deelnemen aan deze zoektocht op eigen risico!
4. Wij gebruiken Prisma alleen voor de betekenis van uitdrukkingen (die voorrang hebben op 'gewone' betekenissen), voor eventuele dubbele betekenissen van woorden (Voorbeeld: kapel = bedehuis maar ook een muziekkorps) en voor vragen met een puzzelelement (verborgen, scrabble, enz..).
Hiervoor gebruikten we de uitgaven met oranje kaft EN de recentere Belgische editie met rood-zwarte kaft. Voor alle andere vragen nemen we de 'gewone gangbare' betekenis zoals jij en ik die wellicht kennen. Ook onderweg vermelde gegevens hebben voorrang op welke Prisma-betekenis dan ook. Bij de vermelding "Residentie Citadel" wordt dus geen vorstelijk verblijf bedoeld.
5. Tussen dubbele aanhalingstekens " " = te lezen tekst en is als dusdanig identiek terug te vinden. Niet tussen aanhalingstekens = voorwerp of afbeelding. vb. **kerk**, u moet zoeken naar 'n **kerk of 'n afbeelding** ervan. Tussen enkele aanhalingstekens = om een gegeven te **benadrukken**. vb. '**oudste**' kerk.
6. Toelichtingen geplaatst tussen () houden **nooit 'n val** in.
7. **R** =rechts ; **L**=links; **RD** =rechtdoor; **HNV** =hier niet vermeld; **vgtp** =volgens plaatselijke gegevens.
Eén = 1; een = 'n = 1 of meer.  = Alternatief parcours voor rolstoelgebruikers.  = sanitaire voorzieningen.
8. Op het parcours komen we regelmatig cafeetjes en eetgelegenheden tegen.
Deze worden aangegeven met  of 
9. De klinkers zijn: a, e, i, o, u, y. De Romeinse cijfers: I= 1, V= 5, X= 10, L= 50, C= 100, D= 500, M= 1000.
10. Grootte en lettertypes spelen geen rol, spaties wel. "**WIJSNEUS**" = "**WIJSNĒVS**" = "**WijSNeuS**" maar "**WIJSNEUS**" ≠ "**WIJS NEUS**". Tekens en accenten mag men wegdenken. "**CA-FÉ**" = "**CA FÉ**" en "**CAFÉ**" = "**CAFE**".
Woorden met koppeltokens worden beschouwd als één woord. Voorbeelden: zo-even, kruidje-roer-me-niet.
11. Verborgen in een **woord**: In "generatie" zit verborgen "gene", "era", "rat", ... Verborgen in een **tekst**: In "de oudere generatie" zit o.a. verborgen "oud", "regen", "oudere", rat,..
12. Belangrijk is het verschil tussen "**de**"/"**het**" of "**een**" in een vraag. Als bv. gevraagd wordt naar gegevens op 'een bord', en er zijn meerdere borden die aan het gevraagde voldoen, dan tel je alle gegevens op de verschillende borden samen. Vb. hoeveel maal komt een vogel voor op een bord met "Gent"? M.A.: 0 – 1 – 2 – 3 – meer dan 3. Op de drie borden samen komen 5 vogels voor. Dan is het juiste antwoord meer dan 3.
Als de vraag gaat over "het bord" dan antwoord je per bord. Vb. hoeveel maal komt een vogel voor op het bord met "Gent"? M.A.: 0 – 1 – 2 – 3 – meer dan 3. Je ziet drie borden met respectievelijk 0, 2 en 4 vogels. Dan is het antwoord 0 – 2 – meer dan 3.
13. Op elke vraag moet geantwoord worden.
Bij een vraag gevolgd door "K.U." (Kies uit) is slechts één antwoord mogelijk.
Bij een vraag gevolgd door "M.A." (mogelijke antwoorden) zijn er minstens 1 of meerdere antwoorden juist. Daaruit moeten steeds de VERSCHILLENDE correcte antwoorden gekozen worden.
De vragen zonder keuzemogelijkheden kunnen meer dan één antwoord bevatten.
Op geen enkele vraag mag geantwoord worden met "ONMOGELIJK", "GEEN", "NIETS", "NIEMAND", "NUL".. tenzij deze onder één of andere vorm bij de mogelijke antwoorden (M.A.) vermeld zijn.
14. Met "**of**" wordt bedoeld één van de gegevens, vb. "een pot of een pan" = één van de twee. Met "**en/of**" wordt bedoeld één of alle gegevens, vb. "een pot en/of een pan" = één van de twee of beide.
15. Zoek geen valstrikken in het gebruik van voorzetsels zoals op, in, aan, bij,Met 'op of aan een gevel' wordt steeds bedoeld: 'op één of andere manier verbonden of bevestigd aan die gevel'.
16. Met naam van een persoon bedoelen we voornaam + familienaam of familienaam + voornaam of alleen familienaam maar ook afgekort. JAN LUC DE VOS = DE VOS JAN LUC = DE VOS = J.L. DE VOS = J. D. VOS = J.L.D.V.
17. **Vermeld**: In "Zanger Walter De Buckplein" is De Buck vermeld. Vb. Hoeveel maal is de naam van deze zanger hier vermeld? We lezen 3x zijn volledige naam, éénmaal verborgen "De Buck" en éénmaal zijn initialen "W.D.B." dan is het antwoord 5.

18. Een bord of een plaat kan uit om het even welk materiaal bestaan (hout, metaal, steen, brons, kunststof,..).
19. Het woordje “**hier**” duidt steeds op de plaats waar je je bevindt langs het parcours. Het slaat nooit terug op de tekst in het routeblad. Natuurlijk kan het routeblad overal gelezen worden.
20. **In de omgeving van of hier** is een zoekruimte van **25 m**, **in de onmiddellijke omgeving** is een zoekruimte van **10 m** en **ter hoogte van (thv) of bij** is binnen een straal van **1 m**, alle drie met inbegrip van het herkenningpunt zelf. De **hoogte** speelt nooit een rol in de bepaling van de afstand van de zoekruimte.
21. **Graffiti** (≠ muurschildering) en **toevallige stickers** tellen niet mee.
Niets zoeken achter glas, tenzij beschermglas, **gegraveerd** glas of **volledig gekleefd** of **geschilderd** op de **binnen- of buitenzijde** van het glas! Ook niets zoeken op de achterkant van verkeersborden, op deurbellen en sloten.
22. Alles wat de inrichter beweert moet je als waarheid aannemen.
23. Privaat eigendom mag **nooit** betreden worden. **Respecteer de privacy!**
24. De inrichters kunnen niet aansprakelijk gesteld worden voor ongevallen tijdens deze zoektocht.
25. Door deelname aan deze zoektocht gaat u akkoord met het reglement.

Hoe de start bereiken?

MET DE TREIN + BUS:

- Trein tot Sint-Pietersstation
- Aan Sint-Pietersstation → Bus 55 (De Lijn) Gent – Zelzate. Eindhalte ‘Klein Rusland’
Maandag tot en met vrijdag: 1 tot 2x per uur; Zaterdag en zondag: 1x per uur;
- Aan halte Zelzate ‘Klein Rusland’ → Bus 6 (Connexion) Zelzate–Terneuzen. Halte Sas van Gent ‘Bolwerk’
Maandag tot en met zondag: 1x per uur
Zie details op: [55 + 6 Gent – Terneuzen | Grensoverschrijdende treinen en bussen vanuit België \(grenstreinbus.be\)](https://www.grenstreinbus.be)
- Aan bushalte ± 400 m wandelen tot aan de markt waar de zoektocht aan de kerk start.

MET DE AUTO:

- Vanuit Gent: Via R4
- Vanuit richting Antwerpen: Via E 34 afrit 13 Zelzate-Oost
- Vanuit richting Brugge: Via E 34 afrit 14 Zelzate-West
- Vanuit richting Brussel: Via E40 afrit Merelbeke R4 volgen richting Eeklo/haven afrit Zelzate
- Vervolgens richting Sas van Gent volgen.
- In Sas van Gent toegekomen vanuit richting België:
 - Kanaal aan je rechterzijde blijven volgen.
 - Na ± 400 m, even voor wit ophaalbrugje, eerste straat L ‘Stationstraat’ d.i. tussen café & wit huis.
 - Y-sprong R Wilhelminalaan. Steeds RD blijven volgen tot parking achter de kerk. (Gratis parkeren).
 - Wandel vanaf de parking naar R (= Zusterstraat) langs de zijgevel van de kerk tot aan het marktplein.

AANVRAAG ANTWOORDENBLAD(EN)

Hoe tewerk gaan?

- 1 Vul op onze website: www.caborazoechtchten.com het aanvraagformulier in:
Vermeld het aantal gewenste antwoordenbladen en de naam van de deelnemer(s).
- 2 Stort per deelnemingsformulier 5€ op de rekening van Cabora.
- 3 Van zodra we de storting ontvangen hebben krijg je per mail het antwoordenblad met een unieke code.

De zoektocht start aan de hoofdingang van de kerk.



Sas van Gent, gelegen aan het kanaal van Gent naar Terneuzen, dankt zijn bestaan voornamelijk aan dit kanaal. Het maakt nu deel uit van Terneuzen in Zeeuws-Vlaanderen en telt ongeveer 3.600 inwoners. Voorheen was het een zeegebied dat later verzandde en evolueerde tot een gehucht met een vaart die eindigde bij de Landdijk.

Tijdens de aanleg van de sluis en het graven van de Sassevaart ontstond een kleine nederzetting die uiteindelijk het Sas van Gent van vandaag werd. Het werd in die tijd bestuurd vanuit Gent, inclusief de rechtspraak.

Na 1644 verkreeg Sas van Gent bestuurlijke onafhankelijkheid en ontwikkelde het zijn eigen bestuur, wetgeving en rechtspraak, hoewel het nooit officieel stadsrechten kreeg toegekend.



Maatschappelijk restaurant Het Cuypje Markt 4 Open di. t/m vrij. van 10u tot 15u30.

Ontmoetingsplaats in de voormalige Cuyperskerk. Lunch van 12u-14u voor slechts 6 € !

Maaltijd dient wel voor 10u te worden doorgegeven op telefoonnummer 00 31 85 0223448.

Het menu kan je bekijken op <https://www.zeeuwsegronden.nl/dagbestedingslocatie/het-cuypje/>



Los de eerste vraag op met gegevens in de omgeving van de hoofdingang van de kerk:

Vraag 1: In de tekst op de steen met "De Moriaen", bij de hoofdingang van de kerk, worden twee jaartallen vermeld waarin het cijfer 8 voorkomt. Wat is de som van de verschillende cijfers van de jaartallen waarin het cijfer 8 voorkomt en die hier bij "Den Moriaen" vermeld worden?

M.A.: een drievoud – een viervoud – een vijfvoud – een zesvoud – een zevenvoud.

Met een gegeven op het marktplein = 'Markt':

Vraag 2: Een toestel heeft hier een bijzonder originele naam gekregen, het lijkt wel een grapje te zijn. Welke naam van een voertuig moet je tussen de twee lettergrepen van deze naam invoegen om de meer gangbare naam voor dit toestel te verkrijgen?

1. Verlaat het marktplein ter hoogte van "'t Pleintje" naar L = 'Noordstraat'.
2. Einde straat R = 'Kleine Markt' HNV.
3. "De Geslootene" L = 'Brandspuit straat'.

Begeef je naar het perkje met zes grote borden: We bekijken deze borden van links naar rechts:

Vraag 3: Noteer op je antwoordenblad, voor elk van volgende beweringen te zien op het tweede bord, een W als de bewering WAAR is of een NW als de bewering NIET WAAR is.

(één antwoord per bewering)

- A) Er zijn 14 boten afgebeeld.
- B) In Arabische cijfers uitgedrukt, heeft het grootste vermelde Romeins getal de waarde 43.
- C) De kaart werd gemaakt in 1576.
- D) De 'zoete' zijde van de sluis ligt aan de kant van de Braakman.
- E) Er is een kompas afgebeeld.

Vraag 4: De 1^{ste} van dit geheel heeft de populaire naam van een land, de 2^{de} heeft de naam van een regio in datzelfde land, en de 4^{de} en 5^{de} hebben een naam van het vorstelijk huis van dat land. Wat is de naam van de 'overigen' van dit geheel, zoals hier vermeld op het vijfde bord?
TIP: Eén van de bedoelde 'overigen' zullen we nog tijdens deze zoektocht tegenkomen.



In het stadsbeeld van Sas van Gent zijn, zoals je hebt opgemerkt in de vorige twee vragen, nog steeds verschillende herinneringen aan **Keizer Karel V** te vinden.

Zijn toestemming voor het graven van de Graaf Jansdijk met een sluis was van groot belang voor de stad Gent. Deze toestemming kwam echter niet zonder slag of stoot.

In 1537 kampte Gent met economische problemen, voornamelijk vanwege de verzanding van het Zwin, waardoor de stad haar zeeverbinding verloor. Als compensatie legde Karel V extra belastingen op aan de inwoners van Gent. Dit leidde tot een opstand, die hardhandig werd onderdrukt, en uiteindelijk degradeerde de keizer Gent tot een provinciestad van lagere rang. Ondanks deze conflicten toonde Karel V toch enige genegenheid voor zijn geboortestad. Op 26 mei 1547 verleende hij eindelijk toestemming voor een open waterverbinding naar de zee.

Karel V bezocht Sas van Gent op 27 augustus 1556 om zijn onvoltooide project te inspecteren. Daarna reisde hij verder naar Vlissingen en vertrok definitief naar Spanje, waar hij twee jaar later overleed.


Vraag 5: Van welk gebied was Karel V keizer, koning en/of heer volgens gegevens te zien tijdens je wandeling op een bord waarop hij is afgebeeld?

M.A.: Spanje – Nederlanden – Luxemburg – België – Braakman – het Duitse Rijk – Frankrijk.

4. Viersprong R = ‘Kloosterlaan’.

Deze **getijdenmolen**, gebouwd in 1696 ter vervanging van drie verwoeste windmolens, werd aangedreven door het getij. Het waterrad werd normaal gesproken aangedreven door overtollig polderwater, dat vervolgens naar het kanaal werd afgevoerd. Deze strategisch geplaatste molen was bestand tegen oorlog en speelde een cruciale rol in de voedselvoorziening tijdens belegeringen in tegenstelling tot windmolens die kwetsbaar waren. Tijdens de 18^e eeuw weerstond de molen verschillende aanvallen. Na 1795 begon de sloop van de vesting van Sas van Gent, waardoor de molen buiten gebruik raakte.

Wat nu resteert, is een muur met een nis waar ooit het water doorheen stroomde.



Doorsnede van een getijdenmolen uit de 17de eeuw

Begeef je even verder naar de overblijfselen van een watergetijdemolen.

Los met gegevens op het bruin bord met "WATERGETIJDEMOLEN" en "ANWB" volgende vraag op:

Vraag 6: Let op, want achter je rug kijkt een vogel toe die heel scherp kan zien wat je uitspookt! Hoeveel letters telt het langste woord op dit bord vermeld onder "WATERGETIJDEMOLEN", waarvan je met een aantal letters van dit woord de naam (maximum 5 letters) van de vogel (dier) kan vormen die hier te zien is vanaf dit bord?

M.A.: 9 – 10 – 11 – 12 – 13 – meer dan 13

5. Meebochten naar R = ‘Westkade’ HNV.

6. Driesprong RD. Maar eerst op deze driesprong:

Vraag 7: Hoeveel letters van de tweede helft van het alfabet komen voor in de naam van het hoekhuis dat zich bevindt op deze driesprong?

M.A.: 4 – 5 – 6 – 7 – 8 – 9.

7. Driesprong RD.

8. Wandel wat verder tot aan de tabaksspecialzaak ‘HABANOS’.

Los ondertussen volgende twee vragen op:

Vraag 8: Welke naam van een planeet is te lezen op of aan het pand waarvan het huisnummer een rond getal is?

Vraag 9: Welke van volgende gegevens zijn te zien op het bord met "BEN EVERSE"?

M.A.: een strikje – palmbomen – 2x "CIGARROS" – een fiets – "St. Raphael" – een sigaar.

9. Keer terug tot voorbij de driesprong. Aan huisnummer 102 straat dwarsen.
Begeef je naar de borden in kunstglas over het carnaval in Sas van Gent:



Sas van Gent heeft een lange carnavalstraditie die teruggaat tot de 16e eeuw. Tijdens het jaarlijkse carnaval in februari wordt de stad omgedoopt tot de **Betekoppenstad**, verwijzend naar de suikerbietenindustrie uit het verleden. Eén van de oude tradities tijdens het Sasse carnaval is de aanwezigheid van Pliesie Goor, de man die er tijdens het meerdaagse carnavalsfeest voor moet zorgen dat de carnavalsvierders zich 'gedragen', waarbij zich 'gedragen' in de carnavalssfeer gelijkstaat aan het drinken van genoeg bier. Pliesie Goor heeft daadwerkelijk bestaan. Hij heette officieel Jacob Goor en was de veldwachter van Sas van 1848 tot 1896. Hij was zeer streng en liet niet met zich sullen. Tja, maar 'in het zakje blazen' bestond toen nog niet.

Vraag 10: Hier gaan we niet veel tralala verkopen, daarom snel een telvraagje.

Wat is het verschil tussen het aantal keren dat we 'la' al dan niet verborgen lezen in het refrein van het carnavalslied 'De kop van een Beet is een Betekop' en het aantal keren dat we een muzieknoot al dan niet verborgen omgekeerd voorkomt in het refrein van dat lied?

Vraag 11: Wie langer dan elf jaar 'Prins der Betekoppen' is, krijgt de titel 'Grootvorst'. Als we ervan uitgaan dat de prinsen met dezelfde naam dezelfde personen zijn, en dat de vermelde prinsen gedurende de volledige aangeduide periode prins waren, hoeveel carnavalsprinsen mogen zich dan de titel 'Grootvorst' toe-eigenen?

K.U.: 0 - 1 - 2 - 3 - 4.

Geen rekening houden met de jeugdprinsen.

10. Steek de straat over aan het zebrapad.

Recht voor ons zien we een gedenksteen met het wapenschild van Keizer Karel V:

Vraag 12: Onderaan het wapenschild van Karel V lezen we zijn leuze.

Noteer op je antwoordenblad de naam die Karel V aan deze leuze gaf zoals die hier vermeld staat.

11. Ga verder naar R en steek voorzichtig t.h.v. de brug de straat over.

12. Loop langs de waterkant \pm 30 m verder RD tot aan het beeld met de schepentrekker.



Het beeld '**De Schepentrekker**' is opgericht als een blijk van waardering voor de noeste werkers die destijds de schepen door het kanaal trokken. De schepentrekkers trokken de schepen de sluis - nodig om het verval op te vangen - in het Kanaal van Gent naar Terneuzen in.

Met de opkomst van stoom- en motorboten werd het werk van de schepentrekker overbodig. Hierdoor vervaagde geleidelijk hun rol.

Desalniettemin is de schepentrekker uitgegroeid tot het symbool van Sas van Gent.

Bij het beeld 'De schepentrekker' twee vragen:

Vraag 13: Hoe vaak kom je een afbeelding van de schepentrekker tegen in de onmiddellijke omgeving van je wandelweg, vanaf hier tot aan wegopdracht 26?

De afbeeldingen dien je alleen te tellen tijdens de eerste keer dat je ze voorbijgaat.

K.U.: 12x - 13x - 14x - 15x - 16x - 17x - 18x - 19x - meer dan 19x.


Vraag 14: In de legenda van het bord met "Vestingwerken" zijn de verschillende locaties genummerd van 1 tot 12. Aan deze 12 locaties hebben wij, volgens een 'vocale' logica, in willekeurige volgorde cijfercodes toegekend in overeenstemming met de cijferwaarde van bepaalde letters (v.b. cijferwaarde van A = 1).

0 - 5 - 6 - 7 - 7 - 7 - 9 - 9 - 13 - 13 - 14 - 22

Kraak deze codes: wat is dan het nummer op de legenda dat overeenkomt met de locaties die we code 7 hebben toegekend?

M.A.: 1 - 2 - 3 - 4 - 5 - 6 - 7 - 8 - 9 - 10 - 11 - 12.

13. Keer terug en ga naar R over de brug. = kant kanonnen.



Hoewel Keizer Karel zijn toestemming gaf voor de aanleg van een echte zeeverbinding, waren er bezwaren vanuit Antwerpen vanwege concurrentie. Niettemin liet Karel V zich niet beïnvloeden en begon de bouw van de sluis in 1551, maar door vertragingen en financiële problemen werd deze pas in 1563 voltooid. Op die dag werd officieel de geboorte van de nederzetting Sas van Gent gevierd.

Niettemin voldeed de Sasse Vaart zelfs naar de normen van de 16e eeuw niet aan de definitie van een volwaardig zeekanaal. Er deden zich snel problemen voor rondom de sluisen waarvan een deel instortten.

In 1572 werd Sas van Gent aangevallen door de Watergeuzen, wat resulteerde in een verwoestende brand en de vernietiging van de sluisen.

De Gentenaren reageerden met het uitbreiden van de vestingwerken, maar in 1583 werd de stad opnieuw ingenomen door de Spanjaarden.

In 1644 veroverde Frederik Hendrik Sas van Gent, wat leidde tot verdere versterking van de vestingwerken. Deze verovering markeerde een keerpunt voor Sas van Gent, omdat het werd losgemaakt van het gezag van Gent en verderging als een zelfstandige gemeente.

14. Voorbij de brug R = 'Oostkade'.

Restaurant CHEV Oostkade 12



Open vanaf 11u (keuken vanaf 12 u) gesloten woensdag & donderdag

Alles krijgt aandacht, bij Chev. Het eten, de dranken, het interieur, een heerlijk terras aan het water. De teams van Chev verwennen u met lekkers uit alle hoeken van de wereld.

Los in de omgeving van het eigendom met huisnummer 14 volgende twee vragen op:

Vraag 15: In welke richting moet je v.g.t.p. wandelen om 'eerlijk' zonder omwegen je doel na te streven?

M.A.: naar links - naar rechts - richting volgende wegopdracht - richting kerk

Vraag 16: In welk jaar werd v.g.t.p. de eerste steen gelegd?

15. Driesprong RD.

Begeef je eerst naar de steen met 'DE VYFHOECK' op het hoekhuis:

Vraag 17: 'De Vyfhoek', zoals je kunt zien op deze steen, omvatte de sluisen die centraal gelegen waren in het vestingcomplex van de 17^{de} eeuw.

Wat is de som van het aantal keren dat je op of aan dit hoekhuis een afbeelding van 'De Vyfhoek' ziet en het aantal keren dat je "VYFHOECK" ziet op of aan dit pand?

K.U.: 2 - 3 - 4 - 5 - 6 - 7 - 8 - 9.

Vraag 18: Welke van volgende gegevens zijn te zien op of aan een gevel vanaf deze driesprong tot aan de volgende wegopdracht?

M.A.: een tong (lichaamsdeel) - rode letter C - een slang - gekroonden - "Marlboro" - "1911".

16. Voor "In m'n Sas" L = 'Prinsenkade'.

Met een gegeven in de onmiddellijke omgeving van het hoekhuis met huisnummer 31:

Vraag 19: Hoe vaak bemerk je het voorwerp waarvan de naam voorkomt als trefwoord in de uitdrukking die we omschrijven als 'wanneer je het niet meer ziet zitten, trek het dan uit'?

K.U.: 1x - 2x - 3x - 4x.

Algemene kennis, deze uitdrukking is niet in Prisma te vinden.

17. Einde weg R.

We komen nu aan het Kanaaleiland of 't Eiland, waar de contouren van een stukje van de oude vestingwerken zijn hersteld. Op dit moment staan we aan de tweede arm van het kanaal, die tot het begin van de 20e eeuw in gebruik was. Tegenwoordig vinden we hier nog een 'nostalgische' haven met haar historische schepen, en er is eveneens een camperplaats aangelegd.

De derde arm is het huidige Kanaal Gent-Terneuzen, welke we straks zullen bezichtigen.


Een kleine omloopvraag op 't Eiland:

Vraag 20: We bemerken een bord over de Bootcamp-route, een parcours om je conditie te verbeteren. Op de plattegrond worden de diverse oefeningen genummerd. Als je daadwerkelijk de oefeningen met nummer 2, 3, 4 en 5 zou uitvoeren, welke lichaamsdelen zou je dan volgens de informatie op de bijbehorende bordjes het meest intensief trainen?

K.U.: billen – buikspieren – schouders – biceps – triceps – armen.
Oefening 2 loop je tweemaal voorbij, maar je hoeft er slechts éénmaal rekening mee te houden.

18. Wandel voorbij de slagboom en aan het bord met “Het ontstaan van Sas van Gent” L.

19. Wandel over het wit sluisbrugje.

 Even naar links en vervolgens het hellend vlak nemen.

Los met gegevens op het bord met de titel “Oude sluis” volgende vraag op:

Vraag 21: Op dit bord zien we op een foto een gegeven dat ook in woord wordt uitgedrukt in de zin juist boven deze foto. Dit woord is tevens verborgen in een langer woord op dit bord. Hoeveel identieke klinkers bevat dit langere woord?

M.A.: 2 – 3 – 4 – 5 – 6 – 7 – 8.


In de tweede helft van de 19e eeuw voldeed het kanaal niet meer aan de scheepvaartvereisten. Tussen 1874 en 1885 werd het kanaal op Belgisch en Nederlands grondgebied verdiept, met de bouw van een nieuwe schutsluis en een tweede kanaalarm, dit is op de locatie waar we ons nu bevinden. Deze sluis was destijds de grootste in Nederland en liet jaarlijks meer dan 1900 zeeschepen door.

Toch werd het snel weer te klein en in 1902 werd een Belgisch-Nederlandse overeenkomst gesloten voor de bouw van een nieuwe sluis in Terneuzen, evenals een derde kanaalarm en een nieuwe schutsluis in Sas van Gent.

In november 1908 voer het stoomschip "Thurland Castle" als eerste via de nieuwe sluis de haven van Gent binnen, wat de toegang voor schepen tot 10.000 ton via Terneuzen mogelijk maakte.

Dit opende nieuwe perspectieven voor Gent op het gebied van verbindingen met grote havens wereldwijd.

Deze ontwikkeling was echter slechts het begin van verdere uitbreidingen vanaf 1960.



Het uitgraven van het kanaal Gent-Terneuzen te Sas van Gent in 1875

20. Neem ± 20 m verder, net voor een witte zitbank in mozaïek, het padje R naar beneden en wandel verder rond het Sas. Bewonder de historische platbodems.

Vergeet ondertussen ook niet gegevens te bekijken voor het oplossen van 20!

Even verder in de bocht zien we de derde kanaalarm, het huidige Kanaal Gent-Terneuzen.



Zoals hierboven vermeld, zijn er sinds 1960 grote infrastructuurwerken uitgevoerd langs het kanaal, waaronder het verleggen van het kanaal bij Zelzate, de herbouw van verschillende bruggen, en de bouw van twee nieuwe sluisen in Terneuzen. Hierdoor konden grotere schepen, inclusief containerschepen, het kanaal bevaren.

Na bijna 50 jaar bleek het kanaal opnieuw te klein te zijn. In 2012 ondertekenden Nederland en Vlaanderen een historisch akkoord voor de bouw van een nieuwe grote zeesluis bij Terneuzen. De Nieuwe Sluis wordt een van 's werelds grootste sluisen, vergelijkbaar met de Kieldrechtsluis in Antwerpen.

Dit nieuwe sluisencomplex zal een belangrijke scheepvaartverbinding bieden tussen Nederland, België en Frankrijk. Zonder vertragingen, zal bij het begin van deze zoektocht het eerste reuze containerschip door deze sluis varen.

Begeef je naar het bord met de titel “Kanaal van Gent naar Terneuzen 1”:

Vraag 22: Wat is het gemiddelde tussen de maximale diepgang en de minimale diepgang voor schepen, zoals vermeld op het bord 'Kanaal van Gent naar Terneuzen', afgerond naar het dichtstbijzijnde gehele getal?

M.A.: een tweevoud – een drievoud – een viervoud – een vijfvoud – een elfvoud.

21. Aan bord met “Kanaal van Gent naar Terneuzen 2” L.
Wandel tot de witte zitbank in mozaïek.

Deze zitbank maakt deel uit van het Social Sofa-project. Het idee ontstond in 2005 als reactie op de toenemende sociale afstand in steden. Er werd een plan gelanceerd om sociale ontmoetingsplekken te creëren door 1000 buitenbanken te plaatsen, elk voorzien van een eigen ontwerp. Dit initiatief werd een groot succes, en in heel Nederland zijn inmiddels meer dan 1500 van deze zitbanken geplaatst.

Met gegevens op deze bank:

Vraag 23: Naar welke kunstvorm verwijst een gegeven afgebeeld op deze zitbank?

M.A.: schilderkunst – fotografie – muziek – literatuur – kookkunst.

22. Wandel terug over het witte sluisbrugje.  Keer terug via het hellend vlak.
23. Voorbij het rood-wit geverfde paaltje even naar R en bewandel vervolgens vlak voor een wasbak en “WC” het smalle pad L.
24. Einde weg voorbij slagboom en witte zitbanken R = ‘Oostkade’.
Maar los eerst met gegevens op het bord langs de waterkant met “Camperplaats ’t Eiland” & “Welkom” volgende vraag op:

Vraag 24: Welke van volgende gegevens zijn te zien op dit bord?

**M.A.: 2 druppende waterkranen – 8 campers – een bolwerk – 4 vuilnisbakken
– 25 parkeerplaatsen voor campers – 1 schroevendraaier.**

25. Driesprong RD en wandel meteen L over het witte ophaalbrugje.
26. Voorbij het brugje even naar R.
Hier eindigt je zoektocht naar afbeeldingen van de schepentrekker.
27. Straat dwarsen aan het zebra-pad en ga naar R = ‘Westkade’.



Café De Rijnvaart Westkade 65

Open vanaf 13 uur gesloten maandag. Leuke kroeg aan het water, met een leuk terras.

Los met gegevens in dit stukje van de Westkade volgende vraag op:

Vraag 25: Wat is het huisnummer van het pand waarvan de naam is vermeld op een vierkantig bordje met “1600-1800” en waarvan het gegeven waar die naam of een deel van die naam op wijst ook op dit pand in beeld te zien is?

M.A.: 71 – 72 – 75 – 76 – 79 – 80 – 81 – 85 – 86 – 87 – 90.

Hou geen rekening met de soms verouderde spelling.

Indien er geen huisnummer aanwezig is, kun je dit afleiden van de naburige huisnummers.

28. Driesprong L= ‘Ooststraat’.



Restaurant De Gastronom Ooststraat 1

Open vanaf 11:30 Gesloten dinsdag & woensdag. Uitgebreide kaart met vis, vlees en pasta's.
Dat lekker uit eten niet altijd duur hoeft te zijn kun je hier ontdekken.

Nog een vraagje met gegevens op de vierkantige bordjes met “1600-1800” in de Ooststraat :

Vraag 26: Kleurrijke blaffer – vorstelijke rikketik – die blijft bij wie hij was; zijn, soms wat cryptische, omschrijvingen van drie huisnamen vermeld op deze bordjes.

Niet zo moeilijk om de bedoelde namen te achterhalen, toch? Wat is de eerste letter en de laatste letter van de zelfstandige naamwoorden die voorkomen in de bedoelde namen?

29. We bereiken terug het marktplein = ‘Markt’.

Begeef je naar de waterpomp (fontein volgens de Nederlanders), centraal op het marktplein. Deze pomp werd hier 'De Fontein' genoemd. Bij navraag kon niemand ons vertellen hoe lang het geleden is dat er water uit deze 'fontein' is gekomen, maar volgens enkele oudere Betekoppen is het al heel lang geleden. Toch kunnen we het niet laten om hierover een vraag te stellen:

Vraag 27: Welk soort water is of was, volgens gegevens, hier aanwezig?

M.A.: regenwater – zeewater – drinkwater – vuil water – zoet water.

30. Wandel terug richting parking = 'Zusterstraat'.
31. Viersprong RD = 'Westdam'. Wandel verder op het rechter voetpad.
32. Wandel voorbij het kanon en "Bolwerk generaliteit" en hou halt bij het infobord met het plan van Sas van Gent gemaakt door Anthony Hattinga, een bekende cartograaf uit de 18^{de} eeuw.

Het ***bolwerk Generaliteit*** is de enige overgebleven herinnering aan de oorspronkelijke verdedigingslinie van Sas van



Gent. Het was oorspronkelijk vijfhoekig maar werd in de 18e eeuw omgebouwd tot een zevenhoekig bolwerk en had drie poorten: de Gentse Poort naar Assenede en Gent, de Boheemse poort naar Philippine en Gent, en de Oostpoort naar Axel.

De etymologie van het woord 'bolwerk' heeft tot enige verwarring geleid. In de dertiende eeuw werd het Middelnederlandse woord 'bolwerk' naar het Frans geëxporteerd en evolueerde het tot 'boulevard', wat verwijst naar een omheining van palen. In de negentiende eeuw werden bolwerken echter steeds minder relevant, en zowel in Nederland als in Frankrijk begon men ze af te breken om plaats te maken voor wandelpromenades. Dit leidde tot een verschuiving in de betekenis van het Franse 'boulevard' naar 'wandellaan rondom een stad, op de plaats waar vroeger stadsmuren stonden'.

Het Nederlands leende dit woord later weer terug, maar nu met de nieuwe betekenis van 'wandellaan'.

Originele bolwerken in hun oorspronkelijke staat zijn zeldzaam. Het gangenstelsel binnenin dit bolwerk, gebruikt voor de opslag en aanvoer van munitie, is bewaard gebleven en kan op afspraak worden bezocht.

Lokaal staat het bolwerk Generaliteit bekend als 'De Molenberg' vanwege de opvallende achthoekige stenen romp van een voormalige 18e-eeuwse windmolen die bovenop het bolwerk staat.

We trakteren je hier op pur sang zoekvraagjes met de aanwijzingen op dit plan:

Vraag 28: A Welk nummer kreeg het gebouw dat na een bombardement is afgebrand?

B In welk jaar vond dit bombardement plaats?

C Welk nummer kreeg het bolwerk dat het dichtst bij deze gebombardeerde plaats ligt?

Gekroonden zijn we tijdens deze zoektocht meer dan genoeg tegengekomen, van carnavalsprinsen tot een keizer. Hier op de grond zien we een mozaïek met het wapenschild van Sas van Gent, en het zal je niet verbazen dat ook daarop een kroon te vinden is.



Een vraagje met een gegeven op deze mozaïek:

Vraag 29: Welke twee getallen passen op de plaats van de puntjes?

2 ■ 6 ■ - 4 ■ 8 ■ - ... ■ ... ■ - 2 ■ 13 ■ - 2 ■ 7 ■

TIP: Hier niet te veel brokken maken, het zou vierkant kunnen draaien en dan loop je het risico strafpunten te krijgen.

33. Viersprong L = 'Generaliteits straat'.
34. Onmiddellijk weer L via het geplaveid pad het park inwandelen.

WANDELING IN HET PARK

1 Viersprong R. Begeef je tot het bord met "SAS VAN GENT; OUDE STADVORM":

Vraag 30: Terwijl het plan van Hattinga tot in de kleinste details is uitgewerkt, zien we hier eerder een beknopt overzicht van de vestingen. De oriëntatie van de vesten lijkt ook niet helemaal juist te zijn. Laten we ons dan ook beperken tot een beknopte vraag, de tekst naast het plan indachtig. Naar welke stad of gemeente leidt volgens gegevens de Boheemse Poort?

- 2 Driesprong L.
3 Aan rozelaars driesprong R.
4 Voorbij zonnwijzer driesprong R.

Even verder zien we een gedenksteen voor dokter Van Loy.

Los met gegevens in dit park op het bord met "VAN LOY PARK" volgende vraag op:

Vraag 31: Welke klinker komt in de tekst op bovenbedoeld bord een even aantal keren voor?

M.A.: A - E - I - O - U - Y.

35. Verlaat het park naar L.
36. Aan kiosk L = 'Tulpstraat'.
37. Einde straat R = 'Westdam'.
38. Even verder voorbij de viersprong bereiken we terug de parking.

Maar los eerst op deze viersprong een laatste, eenvoudige vraag op:

Vraag 32: Welke landcode voor voertuigen werd hier op de rijweg aangebracht?

EINDE VAN DE ZOZKTOCHT.

We hopen dat jullie enkele aangename en leerrijke momenten hebben beleefd tijdens deze zoektocht.

Bekijk ook regelmatig onze website www.caborazoechtchten.com voor eventuele wijzigingen.

Vergeet niet te antwoorden op de hierna volgende schiftingsvragen:

Schifting 1: Geef de laatste vier cijfers van het jokergetal van de lottotrekking van woensdag 03 juli 2024.

Schifting 2: Geef het reservegetal van diezelfde lottotrekking.

Het antwoordenblad uiterlijk versturen op woensdag 26 juni 2024 naar:

lentezoektchtgent@telenet.be of Jacques Van Bruaene Sint-Michielsstraat 4 9000 Gent

Deze zoektocht telt mee voor het kampioenschap van zoektochtvereniging ROS beiaard, de West-Vlaamse Rallyvrienden (W.R.V.) en rallyclub CABORA.

Samenstelling: Jacques Van Bruaene en Alix Liefoghe Controle: Willy Elst

Met veel dank aan Willy Elst

Zoektochtenverenigingen: ROS BEIAARD



WRV



Ben je nog geen lid van een zoektochtenvereniging ?

Word lid van CABORA

Ben je geïnteresseerd in het zoektochtgebeuren?

Wil je er op regelmatige tijdstippen nieuws over ontvangen?

Wens je een beetje begeleiding als nieuweling in de hobby?

Sluit dan aan bij Rallyclub CABORA !!!

Voor slechts € 10.00 per persoon ben je een heel jaar lid van onze club.

Ontvang je om de drie maand ons digitaal clubblad de Weergalm, met specifiek Cabora nieuws, besprekingen van zoektochten, een caboraadse, puzzels, een zoektochtenkalender en nog veel meer...

Hoe word je lid?

Stort de som van € 10.00 op rekening BE57 8900 1485 1135 ten name van rallyclub Cabora.

Dan ben je lid van Cabora tot eind 2024.

Meer inlichtingen?

Ga naar onze website www.caborazoechtchten.com en vul het contactformulier in.